

Nome \_\_\_\_\_

Data: \_\_\_\_\_

Professor: \_\_\_\_\_

Turma: \_\_\_\_\_

01. CALCULE AS MULTIPLICAÇÕES E LIGUE OS RESULTADOS

$8 \times 4 =$

42

$3 \times 3 =$

21

$9 \times 2 =$

32

$4 \times 5 =$

30

$6 \times 7 =$

16

$8 \times 2 =$

20

$2 \times 6 =$

24

$3 \times 7 =$

18

$5 \times 6 =$

12

$8 \times 3 =$

9



<https://simuladosquestoes.com.br/>



Nome \_\_\_\_\_

Data: \_\_\_\_\_

Professor: \_\_\_\_\_

Turma: \_\_\_\_\_

**02. RESOLVA AS MULTIPLICAÇÕES, TROQUE OS NÚMEROS PELAS LETRAS E DESCUBRA A PALAVRA QUE DEVE COMPLETAR A FRASE.**

A) NÃO SINTO O MENOR NERVOSO COM O RONCO DE UM...

$2 \times 3 =$  \_\_\_\_\_

$2 \times 9 =$  \_\_\_\_\_

$2 \times 2 =$  \_\_\_\_\_

$3 \times 5 =$  \_\_\_\_\_

$5 \times 5 =$  \_\_\_\_\_

$3 \times 2 =$  \_\_\_\_\_

6	15	18	25	4
o	v	t	ã	r

**03. MARQUE A ALTERNATIVA COM O RESULTADO CORRETO.**

$69 + 38 + 242$

- 348     415     349     502

$230 + 150$

- 379     380     256     594

$210 + 151 + 35$

- 521     116     396     496

$19 + 9$

- 25     45     28     25

**04. DESCUBRA QUAL É O NÚMERO DA CASA DE MARCOS: O NÚMERO COMEÇA COM UM ALGARISMO ÍMPAR. TODOS OS OUTROS ALGARISMOS SÃO PARES. A SOMA DE TODOS OS ALGARISMOS É IGUAL A 21.**

382-1692

411-8151

320-6282

542-0551

714-0231

213-1975

224-6070

810-3042

326-1287

Nome \_\_\_\_\_

Data: \_\_\_\_\_

Professor: \_\_\_\_\_

Turma: \_\_\_\_\_

05. OBSERVE A SEQUÊNCIA E AJUDE A MAGALI A DESCOBRIR QUAL O NÚMERO DO ÚLTIMO QUADRO.



40	110	180					?
----	-----	-----	--	--	--	--	---

- A) ( ) 460
- B) ( ) 520
- C) ( ) 320
- D) ( ) 530


06. NO DOMINGO GARFIELD COMEU 128 HAMBÚRGUERES E NA SEGUNDA 197. QUANTOS HAMBÚRGUERES A MAIS GARFIELD COMEU NA SEGUNDA ?

- A) ( ) 68
- B) ( ) 69
- C) ( ) 57
- D) ( ) 325



07. A SOMA DOS NÚMEROS QUE ESTÃO NOS CORAÇÕES É FORMADA POR:

- A) ( ) 6 DEZENAS E 2 UNIDADES
- B) ( ) 6 DEZENAS E 0 UNIDADES
- C) ( ) 5 DEZENAS E 8 UNIDADES
- D) ( ) 6 DEZENAS E 4 UNIDADES



08. O NÚMERO FORMADO POR 5 CENTENAS + 3 DEZENAS + 8 UNIDADES, É :

- A) ( ) 532
- B) ( ) 385
- C) ( ) 538
- D) ( ) 836





Nome \_\_\_\_\_

Data: \_\_\_\_\_

Professor: \_\_\_\_\_

Turma: \_\_\_\_\_

09. MARIA FOI AO SHOPPING COM SUA MÃE E DECIDIU COMPRAR UM BRINQUEDO EM CADA LOJA QUE ENTRARAM, AO TODO FORAM EM QUATRO LOJAS, MARQUE A ALTERNATIVA CORRETA SOBRE O TROCO QUE RECEBERAM DE CADA BRINQUEDO.

Preço	Paguei com	Recebi de troco
 R\$ 25,00	R\$ 50,00	<input type="checkbox"/> R\$ 15,00 <input type="checkbox"/> R\$ 75,00 <input type="checkbox"/> R\$ 3,00 <input type="checkbox"/> R\$ 25,00
 R\$ 68,00	R\$ 80,00	<input type="checkbox"/> R\$ 22,00 <input type="checkbox"/> R\$ 13,00 <input type="checkbox"/> R\$ 148,00 <input type="checkbox"/> R\$ 12,00
 R\$ 19,00	R\$ 20,00	<input type="checkbox"/> R\$ 1,00 <input type="checkbox"/> R\$ 11,00 <input type="checkbox"/> R\$ 39,00 <input type="checkbox"/> R\$ 2,00
 R\$ 86,00	R\$ 100,00	<input type="checkbox"/> R\$ 186,00 <input type="checkbox"/> R\$ 14,00 <input type="checkbox"/> R\$ 86,00 <input type="checkbox"/> R\$ 26,00

10. COMPREI UM LANCHE POR R\$ 17,80 E PAGUEI COM UMA NOTA DE R\$ 50,00, QUAL SERÁ MEU TROCO ?

- A)  R\$ 20,00
- B)  R\$ 32,20
- C)  R\$ 33,80
- D)  R\$ 25,30

<https://simuladosquestoes.com.br/>

Nome \_\_\_\_\_

Data: \_\_\_\_\_

Professor: \_\_\_\_\_

Turma: \_\_\_\_\_

**11. DECOMPONHA OS NÚMEROS ABAIXO:**

	CENTENA	DEZENA	UNIDADE
225			
387			
41			
934			
108			
596			

**12. FAÇA COMO NO EXEMPLO ABAIXO:**

5 centenas, 7 dezenas e 4 unidades:

7 centenas, 1 dezena e 6 unidades:

9 centenas, 2 dezenas e 9 unidades:

1 centena, 3 dezenas e 1 unidade:

**13. QUANTAS DEZENAS TEM O NÚMERO 231 ?**

- A) ( ) 1
- B) ( ) 3
- C) ( ) 2
- D) ( ) 5

**14. MARQUE A ALTERNATIVA CORRETA :**

- A) O NÚMERO 320 TEM 3 DEZENAS
- B) O NÚMERO 574 TEM 4 CENTENAS
- C) O NÚMERO 253 TEM 2 UNIDADES
- D) O NÚMERO 432 TEM 4 CENTENAS

<https://simuladosquestoes.com.br/>

Nome \_\_\_\_\_

Data: \_\_\_\_\_

Professor: \_\_\_\_\_

Turma: \_\_\_\_\_

15. DECOMPONHA O NUMERAL CONFORME O MODELO ABAIXO:

A) 423 = \_\_\_\_ CENTENAS + \_\_\_\_ DEZENAS + \_\_\_\_ UNIDADES

B) 576 = \_\_\_\_ CENTENAS + \_\_\_\_ DEZENAS + \_\_\_\_ UNIDADES

C) 692 = \_\_\_\_ CENTENAS + \_\_\_\_ DEZENAS + \_\_\_\_ UNIDADES

D) 751 = \_\_\_\_ CENTENAS + \_\_\_\_ DEZENAS + \_\_\_\_ UNIDADES

E) 805 = \_\_\_\_ CENTENAS + \_\_\_\_ DEZENAS + \_\_\_\_ UNIDADES

F) 930 = \_\_\_\_ CENTENAS + \_\_\_\_ DEZENAS + \_\_\_\_ UNIDADES

16. LEIA AS QUESTÕES E ORGANIZE AS INFORMAÇÕES NO QUADRO, CORRETAMENTE.

A) RODRIGO TEM 2 POTES DE DOCES CHEIOS, CADA UM COM 100 BALAS E UM POTE PELA METADE, COM 25 DOCES. SOME O TOTAL DE DOCES E DECOMPONHA O VALOR NO QUADRO ABAIXO:

C	D	U

B) DONA MARIA VENDE BANANAS NA FEIRA, CADA CACHO POSSUI 10 BANANAS E HOJE ELA TEM 25 CACHOS. DECOMPONHA O NÚMERO TOTAL DE BANANAS QUE ELA TEM NO QUADRO ABAIXO :

C	D	U

C) JOANA GANHOU 15 REVISTAS DE SUA MÃE E 12 DE SEU PAI. SOME QUANTAS REVISTAS ELA TEM AO TODO E DECOMPONHA NO QUADRO ABAIXO.:

C	D	U

Nome \_\_\_\_\_

Data: \_\_\_\_\_

Professor: \_\_\_\_\_

Turma: \_\_\_\_\_

**17. DESCUBRA O CAMINHO PARA A ESCOLA !**

GABRIEL E MARIANA PRECISAM CHEGAR ATÉ A ESCOLA, MAS SÓ PODEM PASSAR PELAS CASAS QUE O RESULTADO SEJA PAR, AJUDE-OS PINTANDO AS CASAS CORRETAS.



$10:2$	$10-4$	$18-10$	$7+5$	$14-6$	$2 \times 2$
$1 \times 3$	$16-8$	$5+4$	$11+6$	$14:2$	$6+7$
$12+7$	$2 \times 4$	$12-4$	$4+12$	$19-7$	$13+5$
$20-5$	$17-8$	$1 \times 9$	$11+2$	$9-6$	$2 \times 5$
$21-2$	$1 \times 7$	$5-4$	$20-3$	$3 \times 2$	$16:2$
		$3 \times 3$	$7+8$	$9+7$	$5 \times 3$
		$20:2$	$10-6$	$13+3$	$0+9$



<https://simuladosquestoes.com.br/>

Nome \_\_\_\_\_

Data: \_\_\_\_\_

Professor: \_\_\_\_\_

Turma: \_\_\_\_\_

**18. RESOLVA OS PROBLEMAS ABAIXO !**

A) VOVÓ LIA COLHEU 36 FLORES. RESOLVEU ARRUMÁ-LAS EM 6 VASOS, QUANTAS FLORES ELA COLOCOU EM CADA VASO ?

OPERACÃO

RESPOSTA




B) UM FEIRANTE COLOCOU 72 MAÇAS EM 9 CAIXAS. QUANTAS MAÇAS ELE COLOCOU EM CADA CAIXA ?

OPERACÃO

RESPOSTA



Super  
Preparado  
Soluções Educacionais



C) DAVI TEM 28 AVIÃOZINHOS E QUER 2 FILAS COM A MESMA QUANTIDADE DE AVIÃOZINHOS. QUANTOS AVIÃOZINHOS HAVERÁ AM CADA FILA ?

OPERACÃO

RESPOSTA



<https://simuladosquestoes.com.br/>



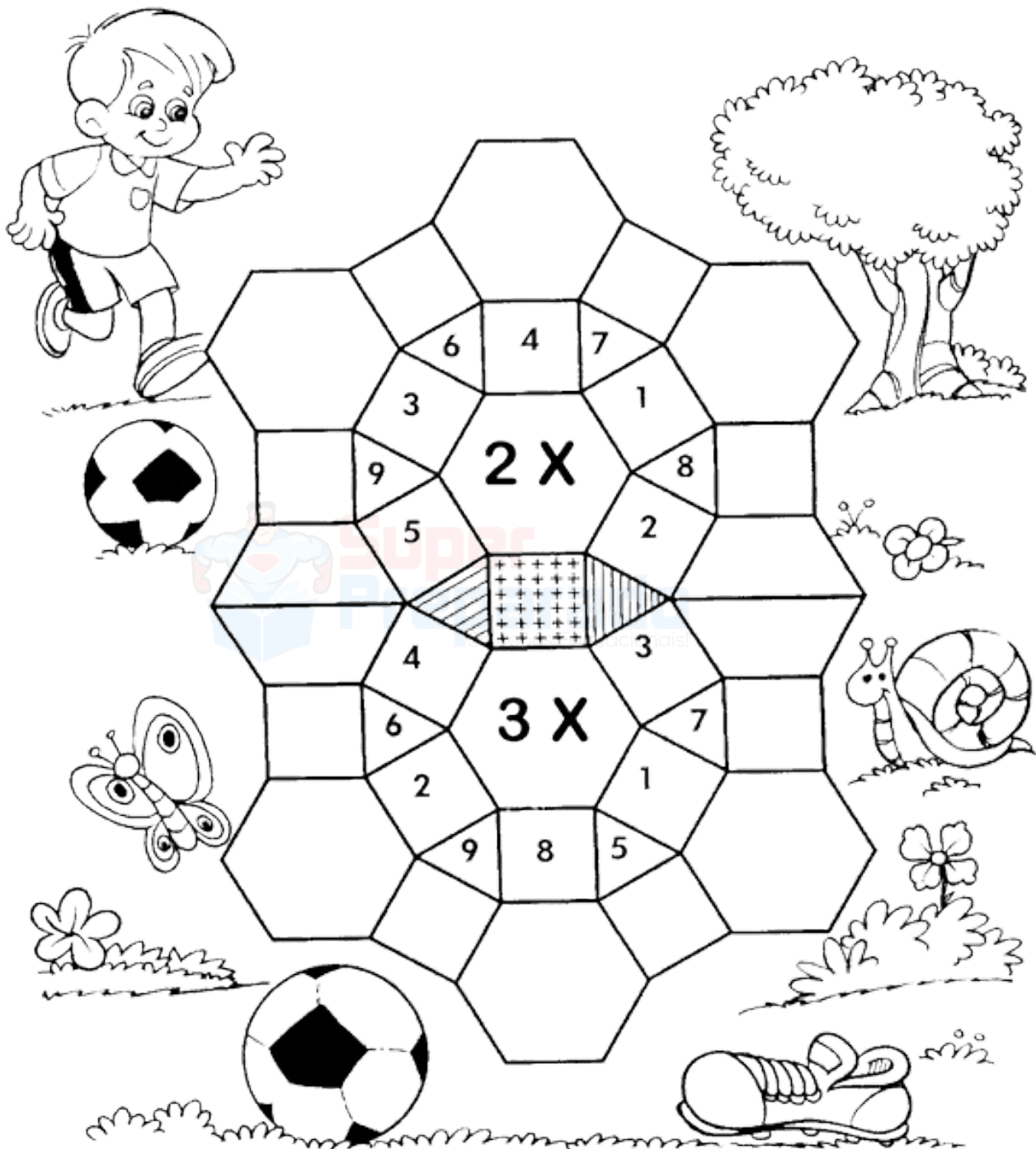
Nome \_\_\_\_\_

Data: \_\_\_\_\_

Professor: \_\_\_\_\_

Turma: \_\_\_\_\_

19. MOSAICO DA MULTIPLICAÇÃO!  
COMPLETE O MOSAICO, RESOLVENDO OS FATOS:



<https://simuladosquestoes.com.br/>

# OLHE ESSES MATERIAIS

## + DE 1450 ATIVIDADES

Educação Infantil e Séries Iniciais

- Alunos com dificuldades de aprendizagem
- Acelerar aprendizagem



+ BÔNUS

[ACESSAR - CLIQUE AQUI](#)



## INGLÊS BÁSICO

### CERTIFICADO DE 100 HORAS

- ✓ HORAS COMPLEMENTARES
- ✓ PROGRESSÃO FUNCIONAL
- ✓ PROVAS DE TÍTULOS
- ✓ CURRÍCULO

[ACESSAR - CLIQUE AQUI](#)

## PREPARATÓRIO PARA CONCURSOS PEDAGOGIA

- ✓ VIDEOAULAS DE RESOLUÇÃO DE QUESTÕES
- ✓ MAIS DE 5 MIL QUESTÕES EM PDF
- ✓ PREPARAÇÃO PARA CONCURSOS E SELEÇÕES.
- ✓ QUESTÕES EM PDF POR ASSUNTO

ACESSO IMEDIATO

[ACESSAR - CLIQUE AQUI](#)

## INSCRIÇÕES! CURSOS ONLINE

### COM CERTIFICADO

- ✓ HORAS COMPLEMENTARES
- ✓ PROVAS DE TÍTULOS
- ✓ PROGRESSÃO FUNCIONAL
- ✓ CURRÍCULO

[ACESSAR - CLIQUE AQUI](#)

<https://superpreparadocursos.com.br/>

# NOSSOS CURSOS

[Alfabetização E Letramento Na Educação Infantil - 100 Horas](#)

[Conhecendo As 10 Competências Da BNCC - 80 Horas](#)

[Contação De História - 180 Horas](#)

[Didática Da Educação Infantil -180 Horas](#)

[Educação A Distância - 160 Horas](#)

[Educação De Jovens E Adultos - EJA - 160 Horas](#)

[Educação Especial - 110 Horas](#)

[Educação Inclusiva - 100 Horas](#)

[Fundamentos Da Educação Escolar - 80 Horas](#)

[Gestão Escolar E Coordenação Pedagógica - 120 Horas](#)

[Introdução À Psicopedagogia - 180 Horas](#)

[Jogos Matemáticos Na Prática Docente - 120 Horas](#)

[Lei De Diretrizes E Bases Da Educação - LDB - 180 Horas](#)

[Metodologias Ativas Da Aprendizagem 140 Horas](#)

[Musicalização Na Educação Infantil - 160 Horas](#)

[Neuropedagogia - Noções Básicas - 140 Horas](#)

[Noções Básicas De Libras - 160 Horas](#)

[Práticas Em Sala De Aula Na Educação Infantil - 120 Horas](#)

[Saberes Docentes Na Educação Infantil - 120 Horas](#)

[Tecnologias Digitais Na Educação - 180 Horas](#)

<https://simuladosquestoes.com.br/cursos/>

**[MAIS CURSOS - CLIQUE AQUI](#)**