

Nome _____

Data: _____

Professor: _____

Turma: _____

MATEMÁTICA

OBSERVE O VALOR DE CADA FIGURA.




4



5



2



6

AGORA TROQUE AS FIGURAS POR NÚMEROS E MULTIPLIQUE.



$X 3 = \underline{\quad}$




$X 8 = \underline{\quad}$



$X 5 = \underline{\quad}$



$X 4 = \underline{\quad}$



$X 2 = \underline{\quad}$



$X 5 = \underline{\quad}$



$X 6 = \underline{\quad}$



$X 4 = \underline{\quad}$

<https://superpreparadocursos.com.br/>

Nome _____

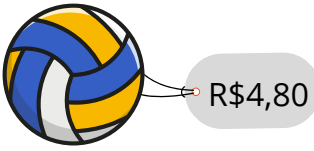
Data: _____

Professor: _____

Turma: _____






QUAL É O TROCO?

EXEMPLO: LUCAS COMPROU UMA BOLA. ELE DEU UMA NOTA DE R\$ 10,00. QUANTO ELE RECEBEU DE TROCO?



RESPOSTA: ELE RECEBEU R\$5,20 DE TROCO

AGORA FAÇA O MESMO COMPLETANDO O QUADRO ABAIXO:

VOCÊ COMPROU	DEU EM DINHEIRO	RECEBEU DE TROCO
 R\$22,00	 R\$30,00	
 R\$18,50	R\$50,00	
 R\$65,70	R\$100,00	
 R\$41,00	R\$100,00	

<https://superpreparadocursos.com.br/>

Nome _____

Data: _____

Professor: _____

Turma: _____

MATEMÁTICA

PINTE A BOLINHA DA RESPOSTA CORRETA:

METADE DE 50

20

10

25

UM TERÇO

$\frac{1}{5}$

$\frac{1}{3}$

$\frac{1}{2}$

MEIA DÚZIA

12

6

3

DOBRO DE 15

30

20

15

Nome _____

Data: _____

Professor: _____

Turma: _____

MATEMÁTICA

OBSERVE O VALOR DE CADA FIGURA.



3



7



8



5

AGORA TROQUE AS FIGURAS POR NÚMEROS E MULTIPLIQUE.



X 3 = _____



X 8 = _____



X 5 = _____



Super
Preparado
Soluções Educacionais



X 4 = _____



X 2 = _____



X 5 = _____



X 6 = _____



X 4 = _____

<https://superpreparadocursos.com.br/>

Nome _____

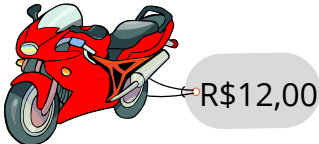
Data: _____

Professor: _____

Turma: _____





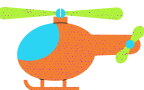
QUAL É O TROCO?

EXEMPLO: MARCOS COMPROU UMA MOTO. ELE DEU UMA NOTA DE R\$ 20,00. QUANTO ELE RECEBEU DE TROCO?



RESPOSTA: ELE RECEBEU R\$8,00 DE TROCO

AGORA FAÇA O MESMO COMPLETANDO O QUADRO ABAIXO:

VOCÊ COMPROU	DEU EM DINHEIRO	RECEBEU DE TROCO
 R\$15,00	 R\$30,00	
 R\$27,50	R\$50,00	
 R\$75,70	R\$100,00	
 R\$83,00	R\$100,00	

<https://superpreparadocursos.com.br/>

Nome _____

Data: _____

Professor: _____

Turma: _____

MATEMÁTICA

PINTE A BOLINHA DA RESPOSTA CORRETA:

METADE DE 40

20

10

25

UM MEIO

$\frac{1}{5}$

$\frac{1}{3}$

$\frac{1}{2}$

UMA DÚZIA

12

6

3

DOBRO DE 10

30

20

15

Nome _____

Data: _____

Professor: _____

Turma: _____

NOSSOS CURSOS

[Alfabetização E Letramento Na Educação Infantil - 100 Horas](#)

[Conhecendo As 10 Competências Da BNCC - 80 Horas](#)

[Contação De História - 180 Horas](#)

[Didática Da Educação Infantil -180 Horas](#)

[Educação A Distância - 160 Horas](#)

[Educação De Jovens E Adultos - EJA - 160 Horas](#)

[Educação Especial - 110 Horas](#)

[Educação Inclusiva - 100 Horas](#)

[Fundamentos Da Educação Escolar - 80 Horas](#)

[Gestão Escolar E Coordenação Pedagógica - 120 Horas](#)

[Introdução À Psicopedagogia - 180 Horas](#)

[Jogos Matemáticos Na Prática Docente - 120 Horas](#)

[Legislação Educacional - 100 Horas](#)

[Lei De Diretrizes E Bases Da Educação - LDB - 180 Horas](#)

[Metodologia De Ensino Para Professores Da Educação Infantil - 140 Horas](#)

[Metodologias Ativas Da Aprendizagem 140 Horas](#)

[Musicalização Na Educação Infantil - 160 Horas](#)

[Neuropedagogia - Noções Básicas - 140 Horas](#)

[Noções Básicas De Libras - 160 Horas](#)

[Práticas Em Sala De Aula Na Educação Infantil - 120 Horas](#)

[Saberes Docentes Na Educação Infantil - 120 Horas](#)

[Tecnologias Assistivas Para Educação Especial - 120 Horas](#)

[Tecnologias Digitais Na Educação - 180 Horas](#)

[Teóricos Da Educação - 120 Horas](#)

[MAIS CURSOS - CLIQUE AQUI](#)