

Nome _____

Data: _____

Professor: _____

Turma: _____

FORMAS GEOMÉTRICAS

Item 01. Leia abaixo e responda.

É a forma geométrica que possui três pontas e parece com uma casquinha de sorvete.

Que figura é essa?

- a) Retângulo
- b) Quadrado
- c) Triângulo
- d) Círculo
- e) Paralelepípedo



Item 02. Leia abaixo e responda.

É a forma geométrica que possui quatro pontas e parece com a face de um dado.

Que figura é essa?

- a) Retângulo
- b) Quadrado
- c) Triângulo
- d) Círculo
- e) Paralelepípedo

Nome _____

Data: _____

Professor: _____

Turma: _____

SUCESSORES E ANTECESSORES

Item 03. Quais são os antecessores dos números 250, 139, 582, 1100 e 978, respectivamente.

- a) 251, 140, 583, 1101 e 979
- b) 249, 138, 581, 1109, 977
- c) 285, 185, 560, 1000, 981
- d) 255, 136, 580, 1002, 980
- e) 274, 185, 578, 1007, 975

Item 04. Quais são os sucessores dos números 284, 547, 741, 47, respectivamente.

- a) 285, 548, 742, 48
- b) 283, 546, 740, 46
- c) 290, 548, 743, 49
- d) 287, 549, 744, 50
- e) 282, 545, 739, 45



Item 05. Quais são os sucessores dos números 140, 21, 36, 97, respectivamente.

- a) 141, 24, 39, 99
- b) 142, 28, 37, 97
- c) 141, 22, 37, 98
- d) 144, 25, 38, 98
- e) 142, 22, 27, 95

Nome _____

Data: _____

Professor: _____

Turma: _____

MULTIPLICAÇÃO E DIVISÃO

Item 06. Joana comprou 4 dúzias de ovos no mercado. Quantos ovos ela comprou?

- a) 36
- b) 48
- c) 58
- d) 37
- e) 24

Item 07. Enzo comprou meia dúzia de bananas. Quantas bananas Enzo comprou?

- a) 7
- b) 6
- c) 14
- d) 12
- e) 5

Item 08. Henrique comprou duas dúzias de bananas, Quantas bananas Henrique comprou?

- a) 6
- b) 24
- c) 22
- d) 12
- e) 5

<https://superpreparadocursos.com.br/>

Nome _____

Data: _____

Professor: _____

Turma: _____

SUBTRAÇÃO

Item 09. Em uma escola estão matriculados 180 alunos, mas como amanheceu chovendo faltaram 45 crianças. Quantas crianças compareceram às aulas?

- a) 36
- b) 135
- c) 245
- d) 112
- e) 185

Item 10. Marta ganhou de presente de aniversário um sapato. A caixa de sapato nos faz lembrar de:

- a) Círculo
- b) Esfera
- c) Uma reta
- d) Cubo
- e) Paralelepípedo

Item 11. Quando se soma 500 ao número 947, o resultado é:

- a) 1447
- b) 159
- c) 431
- d) 1421
- e) 420

<https://superpreparadocursos.com.br/>



Nome _____

Data: _____

Professor: _____

Turma: _____

SUBTRAÇÃO

Item 12. Num só dia, uma papelaria vendeu 140 lápis, 255 borrachas e 120 apontadores. Qual foi o total dos objetos vendidos neste dia

- a) 1515
- b) 1500
- c) 12454
- d) 625
- e) 185

Item 13. Romeu quer comprar uma camiseta e uma calça que custará 120 reais, no total. Ele olhou na carteira e só tinha 70 reais. Quantos reais estão faltando para ela comprar a camiseta e a calça?

- a) 40 reais
- b) 60 reais
- c) 50 reais
- d) 30 reais
- e) 80 reais

Item 14. Hoje, no meu jardim, apareceram 30 abelhas e elas tinham 6 perninhas cada uma. Qual o total de perninhas das abelhas juntas?

- a) 144
- b) 159
- c) 190
- d) 200
- e) 180

<https://superpreparadocursos.com.br/>

Nome _____




Data: _____

Professor: _____

Turma: _____

MULTIPLICAÇÃO




Item 15. Observe as ilustrações abaixo.
Há quantas flores no total?



$$\square \times \square =$$



Item 16. Quantos lápis há ao todo?



$$\square \times \square =$$

Nome _____

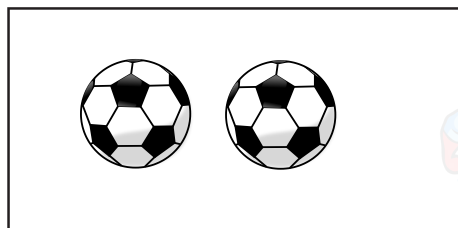
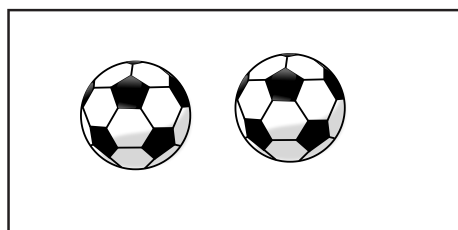
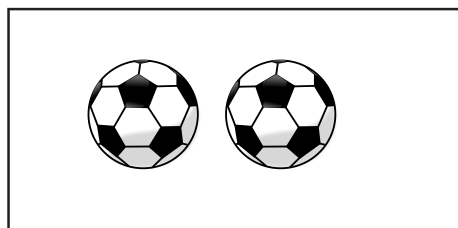
Data: _____

Professor: _____

Turma: _____

MULTIPLICAÇÃO


Item 17. Observe as ilustrações abaixo.
Há quantas bolas no total?



$$\square \times \square =$$



Item 18. Quantos lápis há ao todo?



$$\square \times \square =$$

<https://superpreparadocursos.com.br/>

Nome _____

Data: _____

Professor: _____

Turma: _____

NUMERAIS

Item 19. Componha os numerais como no modelo.

a) 5 centenas + 4 dezenas + 1 unidade = 541

b) 8 centenas + 2 dezenas + 5 unidades =

c) 4 centenas + 8 dezenas + 7 unidades =

d) 9 centenas + 2 dezenas + 7 unidades =

e) 3 centenas + 6 dezenas + 3 unidades =

f) 7 centenas + 4 dezenas + 6 unidades =

f) 7 centenas + 4 dezenas + 6 unidades =

g) 1 centenas + 2 dezenas + 3 unidades =

h) 2 centenas + 2 dezenas + 1 unidades =

i) 4 centenas + 7 dezenas + 3 unidades =

j) 4 centenas + 7 dezenas + 3 unidades =

k) 4 centenas + 7 dezenas + 3 unidades =

<https://superpreparadocursos.com.br/>

Nome _____

Data: _____

Professor: _____

Turma: _____

NUMERAIS / SOMA + SUBTRAÇÃO

Item 20. Responda as perguntinhas abaixo.

- a) Sou um a menos que o 140. Sou o:
- b) Sou um a mais que o 220. Sou o:
- c) Fico entre o 250 e o 252. Sou o:
- d) Venho antes do 1040. Sou o:
- e) Sou duas unidades a mais que 840. Sou o:
- f) Venho três vezes antes do número 456. Sou o:
- f) Sou três unidades a mais que o 789. Sou o:
- g) Venho logo depois do 1230. Sou o:
- h) Sou três unidades a mais que o 741. Sou o:
- i) Sou duas unidades a menos que 963. Sou o:
- j) Sou antecessor de 423. Então eu sou:
- k) Sou sucessor de 947. Sou o:

<https://superpreparadocursos.com.br/>

Nome _____

Data: _____

Professor: _____

Turma: _____

NOSSOS CURSOS

[Alfabetização E Letramento Na Educação Infantil - 100 Horas](#)

[Conhecendo As 10 Competências Da BNCC - 80 Horas](#)

[Contação De História - 180 Horas](#)

[Didática Da Educação Infantil -180 Horas](#)

[Educação A Distância - 160 Horas](#)

[Educação De Jovens E Adultos - EJA - 160 Horas](#)

[Educação Especial - 110 Horas](#)

[Educação Inclusiva - 100 Horas](#)

[Fundamentos Da Educação Escolar - 80 Horas](#)

[Gestão Escolar E Coordenação Pedagógica - 120 Horas](#)

[Introdução À Psicopedagogia - 180 Horas](#)

[Jogos Matemáticos Na Prática Docente - 120 Horas](#)

[Legislação Educacional - 100 Horas](#)

[Lei De Diretrizes E Bases Da Educação - LDB - 180 Horas](#)

[Metodologia De Ensino Para Professores Da Educação Infantil - 140 Horas](#)

[Metodologias Ativas Da Aprendizagem 140 Horas](#)

[Musicalização Na Educação Infantil - 160 Horas](#)

[Neuropedagogia - Noções Básicas - 140 Horas](#)

[Noções Básicas De Libras - 160 Horas](#)

[Práticas Em Sala De Aula Na Educação Infantil - 120 Horas](#)

[Saberes Docentes Na Educação Infantil - 120 Horas](#)

[Tecnologias Assistivas Para Educação Especial - 120 Horas](#)

[Tecnologias Digitais Na Educação - 180 Horas](#)

[Teóricos Da Educação - 120 Horas](#)

[MAIS CURSOS - CLIQUE AQUI](#)

<https://superpreparadocursos.com.br/>